



**Actividad Semanal Historia, Geografía y Ciencias Sociales**  
**1° Año Básico**  
**Docente de Asignatura: Jacqueline Madrid Orellana**

|                         |   |
|-------------------------|---|
| <b>OA</b>               | (OA 9) Ubicar Chile en un mapa incluyendo la cordillera de los Andes, el océano Pacífico, su región, su capital y su localidad. |
| <b>Objetivo semanal</b> | Retroalimentar contenidos vistos en unidad anterior por medio de un power point.  |
| <b>Fechas</b>           | Semana del 10 al 14 de agosto del 2020  |

**Unidad N 3:** Características de Chile y representaciones geográficas

Asignatura: Historia, Geografía y Ciencias Sociales

Curso: 1° Básico

Mes: Agosto

Apuntes 13

**“Hola queridos estudiantes y familia”**  
**Bienvenidos a nuestra clase de Historia. Esta semana seguiremos aprendiendo y seguir con ese maravilloso entusiasmo y esfuerzo.**



## Materiales que necesitas para la clase

### Materiales esenciales




|               |                |                        |
|---------------|----------------|------------------------|
| Lápiz grafito | Goma de borrar | Cuaderno de asignatura |
|---------------|----------------|------------------------|

Y lo más importante un lugar cómodo para trabajar

A continuación, te mostrare lo que realizaremos durante clase de Historia

### Ruta de aprendizaje



|                                       |                      |                               |
|---------------------------------------|----------------------|-------------------------------|
| Recordar contenidos de clase anterior | Realizar actividades | Evaluar a través de preguntas |
|---------------------------------------|----------------------|-------------------------------|

Antes de comenzar los invito a recordar lo aprendido la clase anterior

Chile se encuentra en América del Sur, entre el océano Pacífico y la cordillera de los Andes, al Norte limita con Perú, al Noreste Bolivia y al Este Argentina



Sus características son: Chile es un país largo y angosto.

¿Con qué países o lugares limita Chile?

Norte con Perú ↑  
Este con Argentina →  
Oeste con el Océano Pacífico ←  
Sur con la Antártica ↓

Si observamos el mapa de Chile podemos encontrar las 16 regiones. Nosotros nos ubicamos en la VI región y su nombre es Del Libertador Bernardo O'Higgins

.



## Datos importantes

MI PAÍS: CHILE

CONTINENTE: AMÉRICA DEL SUR

OCÉANO QUE CUBRE CHILE: OCÉANO PACÍFICO

NOMBRE CORDILLERAS QUE CUBREN CHILE: CORDILLERA DE LOS ANDES – CORDILLERA DE LA COSTA.

TU REGIÓN: LIBERTADOS GENERAL BERNARDO O'HIGGINS (SEXTA REGIÓN).

CAPITAL DE CHILE: SANTIAGO.

CAPITAL DE TU REGIÓN: RANCAGUA.

Otro dato importante nuestra región tiene tres provincias: Provincia Cachapoal, Colchagua y Cardenal Caro. Nuestra provincia se llama Cachapoal.

Los invito a contestar las siguientes preguntas de manera oral

¿CUÁNTAS SON LAS REGIONES DE CHILE?

¿CUÁL ES EL OCÉANO QUE BAÑA LAS COSTAS CHILENAS?

¿CÓMO SE LLAMA EL CONTINENTE EN EL QUE SE ENCUENTRA CHILE?

¿CÓMO SE LLAMA TU CIUDAD?

¿CUÁL ES LA CAPITAL DE CHILE?

**LOS INVITO A TRABAJAR**



**Actividades**



# 1- Realiza la actividad de la página 86.

Chile tiene 16 regiones, cada una con características únicas.



Desierto de Atacama.



Chiloé.



\* Acuerdo de 1998

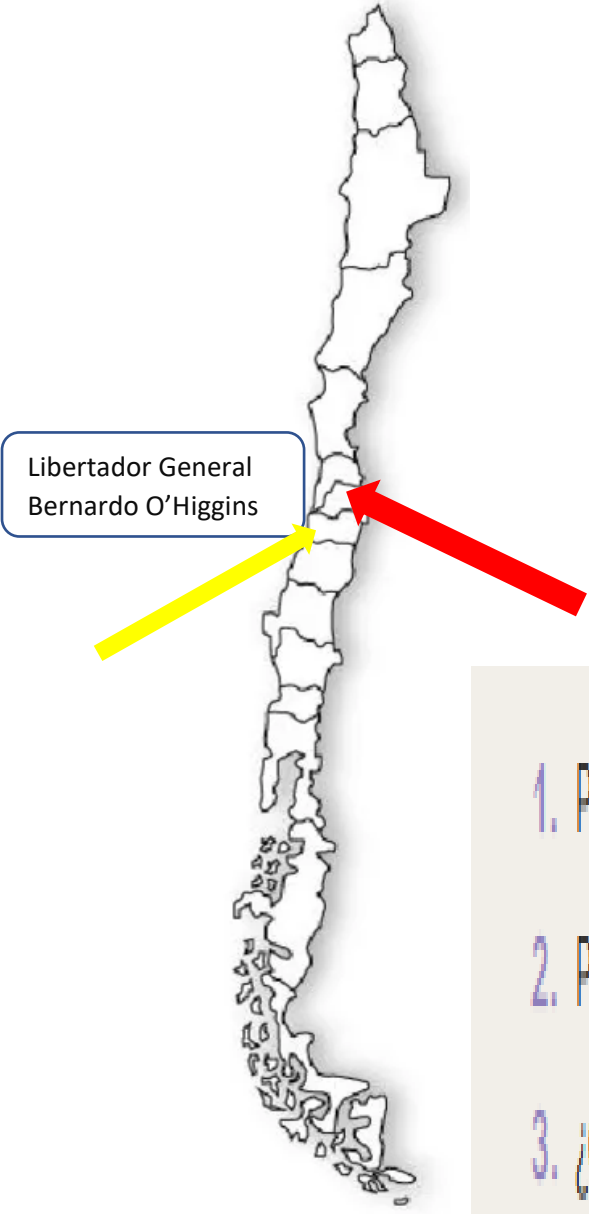
- 1 ¿Cuántas regiones tiene Chile?
- 2 ¿En qué región vives tú?
- 3 Describe en tu cuaderno cada una de estas fotos.



86

Con la ayuda de un adulto responde las preguntas 1, 2 y 3 en el cuaderno de asignatura



# 2- En un mapa mudo de Chile escribe el nombre de las regiones



1. Pinta de  la región donde se encuentra la capital de Chile.
2. Pinta de  el nombre de tu región.
3. ¿Cuántas regiones hay por arriba de Santiago?
4. ¿Cuántas regiones hay por debajo de Santiago?

El mapa mudo lo puedes dibujar con ayuda de un adulto en el cuaderno de asignatura



**3- Marca con una x la alternativa correcta**


1- ¿Cuál de las imágenes representa un mapa y podemos encontrar nuestro país y región?



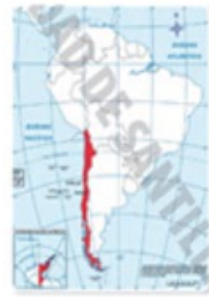
a)



b)



c)



**El nombre de nuestro país y nuestra capital es:**

- a)- Chile y su capital es Rancagua
- b)- Chile y su capital es Santiago
- c)- Chile y su capital es Cachapoal

Reflexión

**1- ¿Cómo se llama la capital de Chile?**

- a) Santiago
- b) Rancagua
- c) Chile

**2- ¿En qué cordilleras podemos encontrar volcanes?**

- a) Cordillera de la Costa
- b) Cordillera de los Andes

**3- ¿Cuál es el nombre de tu región?**

- a) Rancagua
- b) Libertador General Bernardo O'Higgins
- c) Metropolitana

• **Pausa activa: Adivina buen adivinador**

**Soy Chile, los amiguitos corresponden a las 16 regiones y los vecinos son Perú, Bolivia y Argentina.**

**¡Te felicito si acertaste!**

**(No olvides escribir fecha y objetivo de la clase en el cuaderno y enviar las fotos de las actividades realizadas a tu profesor (a))**

Enviar trabajo al correo de la profesora [jaqueline.madrid@colegio-manuelrodriguez.cl](mailto:jaqueline.madrid@colegio-manuelrodriguez.cl)

Comunicarse en caso de duda o consulta al celular +56935624619

#### **Retroalimentación:**

- 1- ¿Qué has aprendido en la clase de hoy?**
- 2- ¿Cómo lo has hecho o aprendido?**
- 3- ¿Qué dificultades has tenido?**
- 4- ¿Para qué te ha servido la actividad?**



*¡Felicitaciones por tu trabajo!*

*No olvides esforzarte y estudiar así aprenderás  
cada día, nos vemos la próxima clase.*