



Actividad Semanal Historia, Geografía y Ciencias Sociales
2° Año Básico
Docente de Asignatura: Jacqueline Madrid Orellana

OA	(OA 7) Ubicar Chile, Santiago, la propia región y su capital en el globo terráqueo o en mapas, y describir la ubicación relativa de países limítrofes y de otros países de América del Sur, utilizando los puntos cardinales.
Objetivo semanal	Reconocen la ubicación de Chile dentro de América y el mundo, su capital, la propia región y su capital dentro del mapa de Chile.
Fechas	Semana del 10 al 14 de agosto del 2020

Unidad N 1: Trabajar con mapas y conocer nuestro país

Asignatura: Historia, Geografía y Ciencias Sociales

Curso: 2° Básico

Mes: Agosto

Apuntes 13

“Hola queridos estudiantes y familia”
Bienvenidos a nuestra clase de Historia. Esta semana seguiremos aprendiendo y seguir con ese maravilloso entusiasmo y esfuerzo.



Materiales esenciales



Lápiz grafito	Goma de borrar	Cuaderno de asignatura
------------------	-------------------	---------------------------

Y lo más importante un lugar cómodo para trabajar

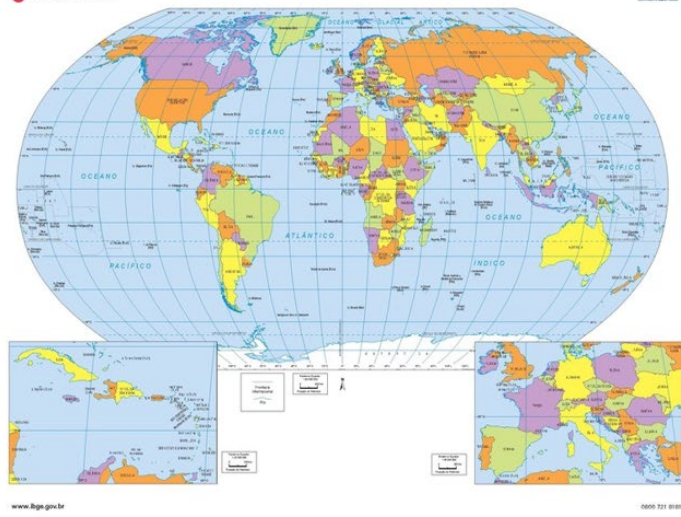
A continuación, te mostrare lo que realizaremos durante clase de Historia
Ruta de aprendizaje

Repasamos lo visto las clases anteriores	Aprendemos sobre la ubicación de nuestro país, nuestra región y su capital	Trabajamos en guía de ejercicios

Antes de comenzar vamos a recordar lo aprendido la clase anterior: ¿Cómo representar lugares más grandes?

Planisferio:

- Un **planisferio** es una representación a escala de un mapa del mundo o mapamundi como también se le conoce. Dicho gráfico muestra todos los elementos contemplados en el mapa esférico de la tierra, pero dispuesto en un plano bidimensional en el que las mediciones y divisiones son los meridianos y las líneas isobaras.



Globo terráqueo:

- El **globo terráqueo** es una de las formas más comunes y útiles de representar el planeta Tierra. El mismo es un elemento a escala diseñado en base a la forma y a la superficie del planeta así como también en relación a los límites políticos de los continentes y de los países que en ellos se encuentran.



Para representar otros lugares como continentes y países ocuparemos los mapas. Existen diversos tipos de mapas



Mapa: físico y político



Muestran las características naturales de la superficie terrestre: Cerros, cordillera, valles, ríos y lagos



Muestra hasta donde llega un territorio y donde comienza otro. Señala los límites o fronteras entre distintos lugares o países.

En el mundo existen seis continentes: América, Asia, Antártida, Oceanía, Europa y África; y cinco océanos: Pacífico, Atlántico, Índico, Austral y Glacial Ártico.

Chile en el mundo



CHILE EN EL MUNDO

Nuestro país, es un país tricontinental, es decir, tiene presencia en tres continentes: América, Antártida Y Oceanía



pág. 24

CHILE EN AMÉRICA DEL SUR



América se divide en tres:
América del Norte,
América Central y
América del sur.
Nuestro país, se ubica en
América del Sur.

pág. 25

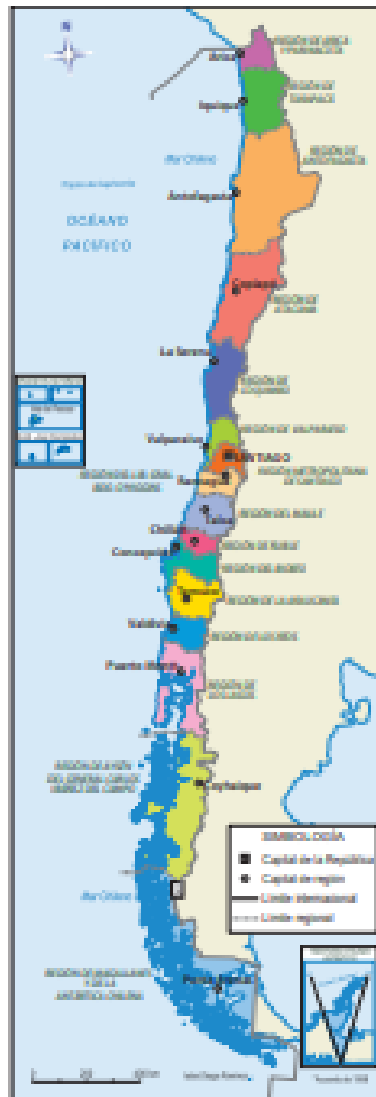
Si no preguntamos ¿Cómo es Chile?



¿Cómo es Chile?









Chile se divide en 16 regiones y cada una de ellas tiene su capital.

Recurso 1 Chile y sus regiones.



Fuente: archivo editorial.

Regiones

 Arica y Parinacota	 Maule
 Tarapacá	 Ñuble
 Antofagasta	 Biobío
 Atacama	 La Araucanía
 Coquimbo	 Los Ríos
 Valparaíso	 Los Lagos
 Metropolitana de Santiago	 Aysén del General Carlos Ibáñez del Campo
 Libertador General Bernardo O'Higgins	 Magallanes y de la Antártica Chilena

- 1 Ubica tu **región** y su capital regional.
- 2 ¿Con qué lugar limita tu región por el norte, sur, este y oeste?
- 3 ¿Qué límite o límites tienen en común todas las regiones del país? Explica.

Pág. 26

LOS INVITO A TRABAJAR



Actividades

1.- Observa el mapa y, usando los puntos cardinales, completa las oraciones de acuerdo a la ubicación relativa de los países de América del sur, con respecto a Chile:

Dibuja el mapa en el cuaderno de historia con la ayuda de un adulto. Pinta Chile de color **café**, Perú **rojo**, Bolivia **amarillo** y Argentina **Celeste**

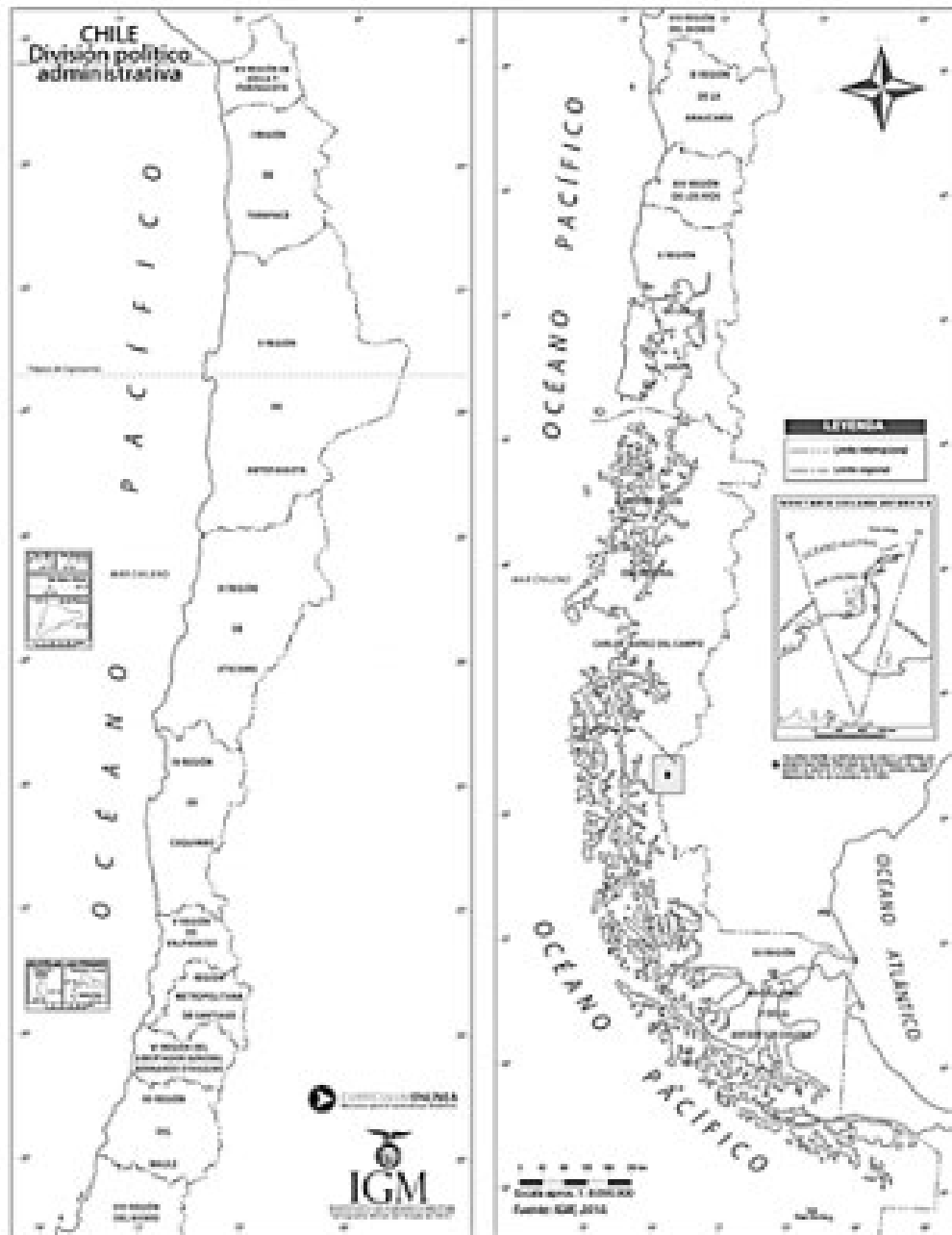


- Chile limita al norte con _____.
- Chile limita al este con _____.
- Chile limita al oeste con _____.
- Chile limita al sur con _____.

Responde cada pregunta de manera oral. La actividad la puedes realizar con ayuda de un adulto.




2.- Observa el mapa de Chile y sigue las instrucciones:



- a) Coloca los puntos cardinales en el mapa.
- b) Pinta de rojo la capital de Chile, que es _____.
- c) Pinta de azul la región en la que vives.
- d) Nuestra región se llama _____.
- e) La capital de nuestra región es _____.

Con la ayuda de un adulto dibuja el mapa en el cuaderno de historia y sigue las instrucciones.



1- ¿Cómo se llama el continente donde se encuentra ubicado Chile?

2- Nombra la región donde vives.

3- ¿Cuál es la capital de Chile?

Pausa activa: Adivina buen adivinador

Soy ancho y plano
En mi puedes ver todo al la vez
Tengo el mundo a tus pies
Océanos y continentes
Soy muy colorido y hermoso a la vez
¿Quién soy?

Soy: El mapamundi o planisferio

¡Felicitaciones si acertaste!

(No olvides escribir fecha y objetivo de la clase en el cuaderno y enviar las fotos de las actividades realizadas a tu profesor (a))

Enviar trabajo al correo de docente jaqueline.madrid@colegio-manuelrodriguez.cl

Comunicarse en caso de duda o consulta al celular +56935624619

Retroalimentación:

- 1- ¿Qué has aprendido en la clase?
- 2- ¿Cómo lo has hecho o aprendido?
- 3- ¿Qué dificultades has tenido?
- 4- ¿Para qué te ha servido?
- 5- ¿En qué otras ocasiones podrías utilizar lo que has aprendido/ esta forma de aprender?

