



Actividad Semanal Historia, Geografía y Ciencias Sociales
2° Año Básico
Docente de Asignatura: Jacqueline Madrid Orellana

OA	(OA 8) Clasificar y caracterizar algunos paisajes de Chile según su ubicación en la zona norte, centro y sur del país, observando imágenes, utilizando diversas fuentes y un vocabulario geográfico adecuado (océano, río, cordillera de los Andes y de la Costa, desierto, valle, costa, volcán, archipiélago, isla, fiordo, lago, ciudad y pueblo, entre otros)
Objetivo semanal	Describir paisajes de las zonas naturales de Chile, asociando la ubicación de los paisajes en las distintas zonas del país con sus características propias.
Fechas	Semana del 24 al 28 de agosto del 2020

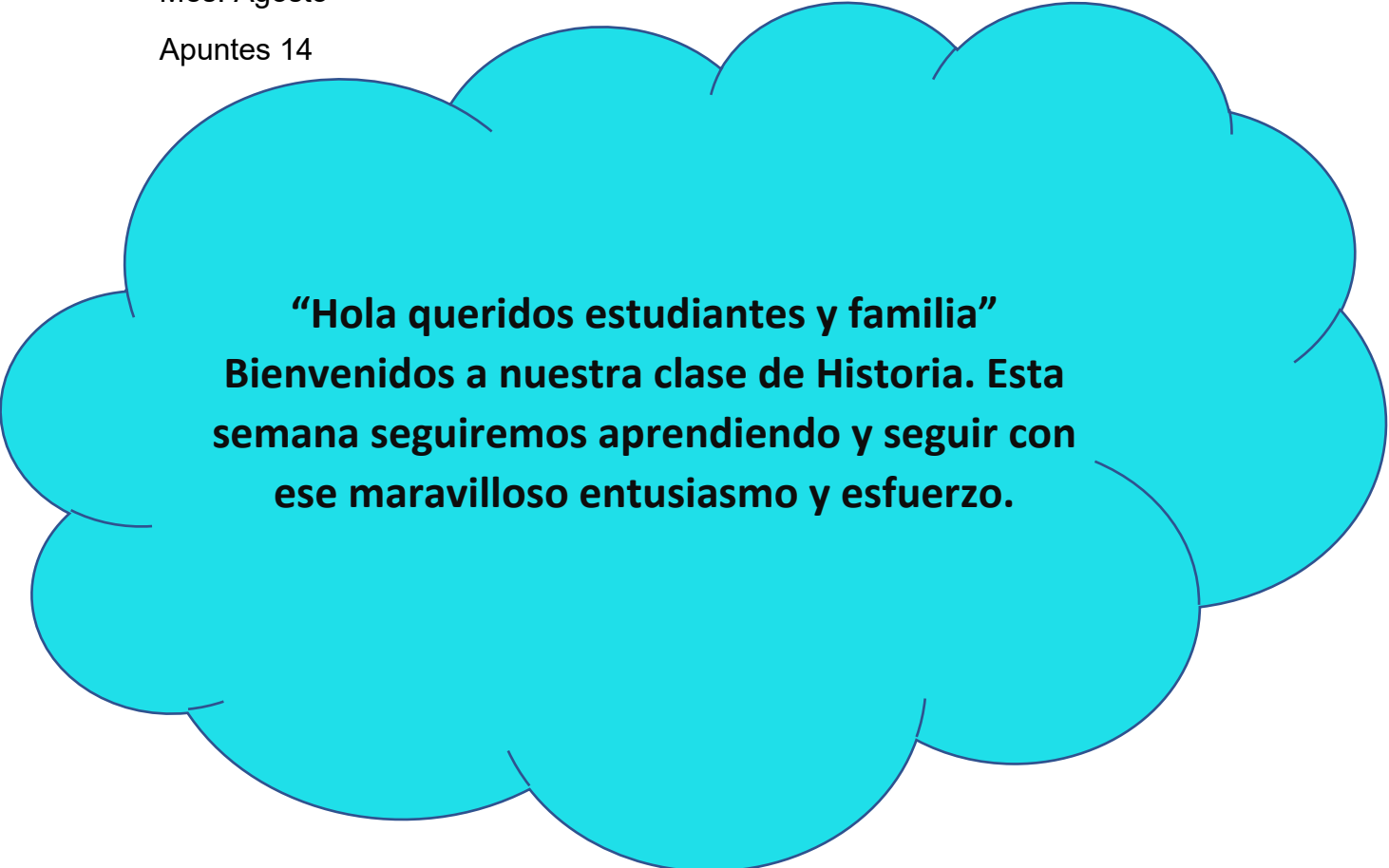
Unidad N 1: Trabajar con mapas y conocer nuestro país

Asignatura: Historia, Geografía y Ciencias Sociales

Curso: 2° Básico

Mes: Agosto

Apuntes 14



“Hola queridos estudiantes y familia”
Bienvenidos a nuestra clase de Historia. Esta semana seguiremos aprendiendo y seguir con ese maravilloso entusiasmo y esfuerzo.



Materiales esenciales



Lápiz grafito	Goma de borrar	Cuaderno de asignatura
------------------	-------------------	---------------------------

Y lo más importante un lugar cómodo para trabajar

A continuación, te mostrare lo que realizaremos durante la clase de Historia

Ruta de aprendizaje

Repasamos lo visto las clases anteriores	Aprendemos sobre los elementos del paisaje y las zonas naturales de Chile	Trabajamos en guía de ejercicios

Antes de comenzar vamos a recordar lo aprendido la clase anterior:

Chile se ubica en el continente América del Sur



Chile se divide en 16 regiones y la capital es Santiago
 Nuestra región es Libertador Bernardo O'Higgins VI y nuestra ciudad es Rancagua.

Sabías que...



Acá encontramos más paisajes naturales

Existen paisajes donde la presencia de elementos naturales es mayor.

En otros paisajes conviven elementos naturales y culturales.

También hay paisajes donde los elementos culturales son mayores a los naturales. Por lo general, esto se produce en las ciudades.

¿Cómo son los paisajes de las zonas naturales de Chile?

Debido a su extensión, en Chile existe una gran variedad de paisajes. Estos se agrupan en cuatro grandes zonas. En ellas se combinan elementos naturales y culturales, los que dan características particulares a cada una.



Los invito a observar y a conocer cada una de las zonas

ZONA NORTE

Se divide en Norte Grande y Norte Chico. Los paisajes de la zona Norte son muy áridos. Presentan un clima desértico (seco y caluroso): llueve muy poco, las temperaturas son altas de día y bajas de noche.



Iquique desde la cordillera de la Costa.
Región de Tarapacá.

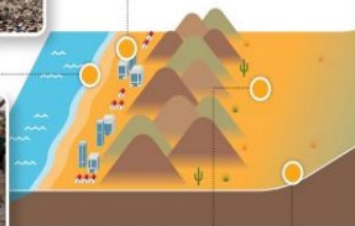


La mayoría de la población de esta zona vive en la costa. La **cordillera de la Costa** es alta y cae abruptamente al mar.



Pescadores en Arica.
Región de Arica y Parinacota.

Los **productos del mar** son uno de los principales recursos de la zona.



Fuente: archivo editorial.

Pampa del Tamarugal, Región de Tarapacá.



La **vegetación** se adapta a las escasas lluvias del desierto.

Socaire, Región de Antofagasta.



Vocabulario

Árido: seco.

La **cordillera de los Andes** toma forma de una planicie en altura (**Altiplano**). Los **animales** se adaptan a la sequedad.

Mina de Chuquicamata.



La industria **minera** se ha desarrollado por largo tiempo en el **desierto** de Chile.

Valle del Elqui, Región de Coquimbo.



Hacia el Sur, aparecen **valles** que reemplazan el desierto.

ZONA CENTRAL

En esta zona vive más gente que en otras zonas, debido a que presenta temperaturas moderadas (no hace ni mucho frío ni calor), lloviendo principalmente en invierno. Tiene un clima templado.



Puerto de Valparaíso.

Los **puertos** en las ciudades de la costa permiten el comercio con países de otros continentes.



Campeñinos de la Zona Central.

La **agricultura** se ve favorecida por el clima templado y la fertilidad de sus valles.



Fuente: archivo editorial.



Santa Cruz en el valle de Colchagua.

1 ¿Por qué la **vegetación** es más abundante en esta zona que en la Zona Norte?



Cajón del Maipo en San José de Maipo.

La **cordillera de los Andes** tiene altas cumbres y de ella nacen ríos que desembocan en el mar (océano Pacífico). A medida que se avanza hacia el Sur la vegetación aumenta.



La Moneda, Región Metropolitana.



Foto panorámica de la ciudad de Santiago, capital de Chile.

Existen **grandes ciudades** donde vive gran parte de la población de Chile. Por ejemplo: Santiago, Valparaíso y Concepción.


ZONA SUR

Se divide en zona Sur y zona Austral. La lluvia y la humedad son características de esta zona. Mientras más avanzas hacia el sur, las temperaturas son más bajas y aumentan las lluvias. Esta zona presenta un clima frío y húmedo, por lo que hay una gran vegetación.



Río Valdivia, Región de Los Ríos.

Existen grandes **ríos** y **lagos** en toda la zona. La **costa** es ancha, pero se va haciendo más angosta hacia el sur.



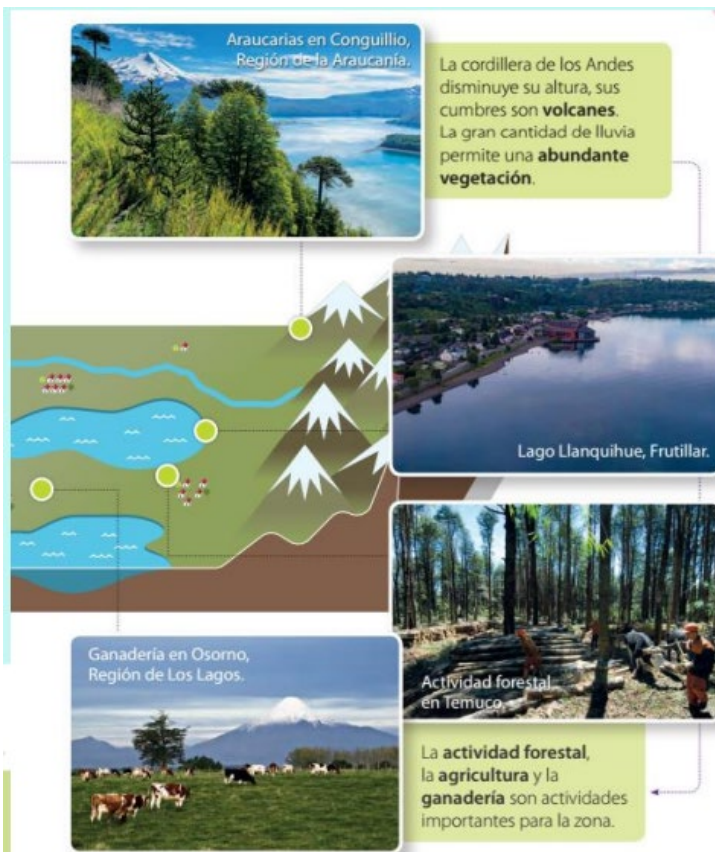
Ciudad de Temuco, Región de la Araucanía.

Esta ciudad es de las más pobladas de la zona y tiene una gran importancia para el comercio, la economía y la cultura de la región.



Fuente: archivo editorial.

- 1** Plantea tres razones por las que vivirías en esta zona. Explícalas.
- 2** Explica con dibujos qué son las actividades agrícolas, forestales y ganaderas. ¿Por qué crees que se desarrollan en esta zona?



Araucarias en Conguillio, Región de la Araucanía.

La cordillera de los Andes disminuye su altura, sus cumbres son **volcanes**. La gran cantidad de lluvia permite una **abundante vegetación**.

Lago Llanquihue, Frutillar.

Ganadería en Osorno, Región de Los Lagos.

Actividad forestal en Temuco.

La **actividad forestal**, la **agricultura** y la **ganadería** son actividades importantes para la zona.

ZONA AUSTRAL

En esta zona las temperaturas son muy bajas, a veces cae nieve, la que cubre varios paisajes presentes en ella. Presenta clima polar.



La cordillera de la Costa se hunde en el mar, formando **islas** y **archipiélagos**. Aparecen **glaciares** y extensas zonas cubiertas de hielo.

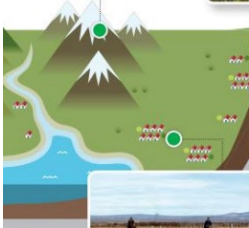


La **pesca** se practica en los canales que existen en la zona.

1 ¿Por qué en esta zona vive una menor cantidad de personas? Conversa con tus compañeros.



Existen grandes ríos, abundante vegetación y especies animales. Aparece la **Patagonia**, una zona plana cubierta de pastos duros y fuertes vientos.



La crianza de ovejas es muy importante para esta zona.

LOS INVITO A TRABAJAR



Actividades

1.- Observa el mapa y, pinta en el mapa cada zona con el color que se te indica y completa la simbología.

- Verde oscuro la zona Norte.
- Amarillo la zona centro
- Naranja la zona Sur

Dibuja el mapa de Chile en el cuaderno de asignatura con la ayuda de un adulto



Chile se divide en tres zonas naturales o regiones geográficas naturales muy características:

- **Zona Norte:** La cual se subdivide en:
 - **Norte Grande:** Abarca desde la XV región de Arica y Parinacota hasta la II de Antofagasta
 - **Norte chico:** Desde la III región de Atacama a la IV región de Coquimbo.
- **Zona Centro:** Abarca desde la V región hasta los límites del río Biobío en la VIII región.
- **Zona Sur:** La cual se subdivide en:
 - **Zona Sur:** desde el río Biobío cerca de Concepción hasta la península de Taitao en la XI región.
 - **Zona Austral:** desde la península de Taitao hasta Magallanes.

1- ¿Cuáles son los elementos del paisaje?

- a) Elementos artificiales y naturales
- b) Elementos naturales y culturales
- c) Zona Norte, Centro, Sur y Austral.

2- ¿Cuáles son las zonas naturales en las que se divide nuestro país?

- a) Zonas naturales y zonas artificiales
- b) Zona Norte, Centro, Sur y Austral.
- c) Zonas de mar y cordillera.

3- ¿Por qué en Chile hay variedad de paisajes?

- a) Por su extensión (es muy largo)
- b) Porque en el sur llueve mucho.
- c) Porque en la zona central no llueve.

Pausa activa: Adivina buen adivinador

Soy largo y angosto
En mi encontraras diversidad
Según donde estas
Me divido en zonas
Imagínate ¿quién soy?

Marca con una x la respuesta



(No olvides escribir fecha y objetivo de la clase en el cuaderno y enviar las fotos de las actividades realizadas a tu profesor (a))

Enviar trabajo al correo de docente jaqueline.madrid@colegio-manuelrodriguez.cl

Comunicarse en caso de duda o consulta al celular +56935624619

Retroalimentación:

1. ¿Qué has aprendido en la clase?



¡Felicitaciones por tu trabajo!

*No olvides esforzarte y estudiar así aprenderás
cada día, nos vemos la próxima clase.*