



**Actividad Semanal Historia, Geografía y Ciencias Sociales**  
**4° Año Básico**  
**Docente de Asignatura: Jacqueline Madrid Orellana**

<b>OA</b>	(OA 8) Describir distintos paisajes del continente americano, considerando climas, ríos, población, idiomas, países y grandes ciudades, entre otros, y utilizando vocabulario geográfico adecuado.
<b>Objetivo semanal</b>	Localizar subcontinentes de América en el mapa distinguiendo sus relieves geográficos.
<b>Fechas</b>	Semana del 24 al 28 de agosto del 2020

**Unidad N 1:** Ubicando lugares de América en los mapas

Asignatura: Historia, Geografía y Ciencias Sociales

Curso: 4° Básico

Mes: Agosto

Apuntes 14

*“Hola queridos estudiantes y familia”  
Bienvenidos a nuestra clase de  
Historia. Esta semana seguiremos  
aprendiendo y seguir con ese  
maravilloso entusiasmo y esfuerzo.*



# Materiales esenciales




Lápiz grafito	Goma de borrar	Cuaderno de asignatura
---------------	----------------	------------------------

Y lo más importante un lugar cómodo para trabajar

A continuación, te mostrare lo que realizaremos durante la clase de Historia

## Ruta de aprendizaje



Observar video.	Escribir subcontinentes de América.	Leer y comprender características de los subcontinentes de América.	Actividad en el texto escolar.	Leer y comprender tipos de relieves geográficos presentes en América.	Dibujar relieves geográficos en el cuaderno.	Evaluar lo aprendido
-----------------	-------------------------------------	---	--------------------------------	---	--	----------------------

Antes de comenzar los invito a **OBSERVAR** el siguiente video de youtube

## América en el mundo

América es el segundo continente más grande del planeta. Se localiza en el hemisferio occidental, abarcando norte-sur y se encuentra rodeado de océanos: el océano Pacífico, el Atlántico, el Glaciar Ártico y el Austral. Está constituido por tres subcontinentes: América del Norte, América Central y América del Sur. En estos espacios conviven distintos países y sociedades que se han adaptado a diversos tipos de paisajes.

## Los invito a leer para tener conocimiento



¿Por qué se divide América?

La separación de América en tres subcontinentes se debe a que existen distintos tipos de paisajes. Una de las características de los países que forman este continente es que todos fueron colonias de otros Estados durante un tiempo. ¿Cómo notamos

esto? En aspectos culturales como el idioma, las formas de relacionarnos, las comidas y la religión, entre otros.



#### ¿Qué significa?

##### colonias:

1. Territorios dominados y administrados por una potencia extranjera.
2. Territorios o lugares donde se establecen personas.

¿Cuál de las dos acepciones es la usada en el texto?

## América del Norte

Es una amplia región que se extiende desde el polo norte hasta el inicio del istmo de Centroamérica. Fue colonizada por británicos, franceses y españoles y, por lo tanto, predominan en ella los idiomas ingleses, francés y español.



## América Central y el Caribe

América Central es un istmo o una franja angosta de tierra que une América del Norte con América del Sur. Al este del istmo se encuentra el mar Caribe, donde se ubican las islas Antillas, de

origen montañoso. En América Central predominó la colonización española, por lo que en la mayoría de estos países se habla español. En el Caribe es posible encontrar otros idiomas, como inglés y francés.



## América del Sur

Se extiende desde el fin del istmo centroamericano, en el norte de Colombia, hasta las islas Diego Ramírez, en el sur de Chile. Fue colonizada por portugueses y españoles y, por tanto, los idiomas predominantes son el portugués, en Brasil, y el español, en países como Argentina, Chile, Colombia y Venezuela, entre otros.



Después de leer la información, responde las siguientes preguntas de forma oral. Si no sabes alguna respuesta, vuelve a

- 1- ¿En qué hemisferios se encuentra América?
- 2- ¿En cuántos subcontinentes se divide América?



## Los invito a leer la información del texto escolar página 83

### Ubico a América en el mundo

América es un continente de gran extensión territorial y de enorme diversidad natural y cultural. En América se ubica parte importante del territorio chileno.

Este continente está situado en el hemisferio occidental y se extiende desde los 83° de latitud norte a los 56° de latitud sur, por lo que su territorio abarca los hemisferios norte y sur.

América está formada por dos grandes masas de tierra, unidas por un territorio central, junto al cual, hay un conjunto de islas que rodean el mar Caribe. Considerando sus características físicas, este continente ha sido dividido en tres grandes regiones geográficas: América del Norte, América Central y el Caribe y América del Sur.




Realiza la actividad.

1. Pinta las tres regiones en que se divide América con un color diferente para cada una. Luego, completa la simbología del mapa.
2. Señala en qué hemisferios se ubican cada una de estas regiones.

#### Reflexiona

¿Cómo ayudaron tus conocimientos previos a realizar las actividades?



Realiza la actividad  
de la página 84

Observa el mapa y responde de forma oral.

¿Qué significan todos los colores?



¿Por qué algunos serán mas oscuros que otros?

El relieve geográfico determina las formas que tiene la corteza de la tierra, como cordilleras u océanos.

## Relieves Geográficos

Los relieves geográficos son un conjunto de irregularidades que presenta la superficie terrestre. Los relieves van cambiando, aunque estos cambios solo se ven en un cierto lapso de tiempo, pues son muy lentos, salvo cuando se producen terremotos o erupciones volcánicas. Ejemplos: Cordilleras, valles, islas, penínsulas, lagos, entre otros.

## Relieves terrestres de América

**Cordillera:** Conjunto de montañas alineadas a lo largo de un eje que forman una unidad.


**Montaña:** Elevación muy grande de tierra.

**Llanura:** Terreno muy plano, sin grandes elevaciones ni depresiones.

**Valle:** Terreno alargado de baja altura, que pudo haber sido creado por un río o por un glaciar.

**Meseta:** Terreno plano que se encuentra en altura. A veces se encuentra inclinada.

## Observa las imágenes



## Accidentes Costeros

**Cabo:** Punta formada por una masa de tierra que se proyecta hacia el interior del mar.

**Golfo:** Gran entrante del mar en la tierra con forma más o menos semicircular entre dos cabos.

**Isla:** Porción de tierra rodeada de agua por todas partes.

**Península:** Extensión de tierra rodeada de agua por todas partes salvo por una, por donde está unida a un territorio de mayor tamaño.





## Aguas Superficiales

**Ríos:** Corriente natural de agua que fluye permanentemente y va a desembocar en otra, en un lago o en el mar.

**Lagos:** Gran depósito natural de agua en una depresión del terreno, que recoge aguas pluviales, subterráneas o de uno o varios ríos.



Para complementar la información los invito a observar video de youtube

<https://www.youtube.com/watch?v=O5LcweQDXbM>

## Los invito a trabajar



## Actividades

# 1- Realiza la actividad de la página 84.

1. Observa el mapa físico de América. Luego, realiza la actividad.

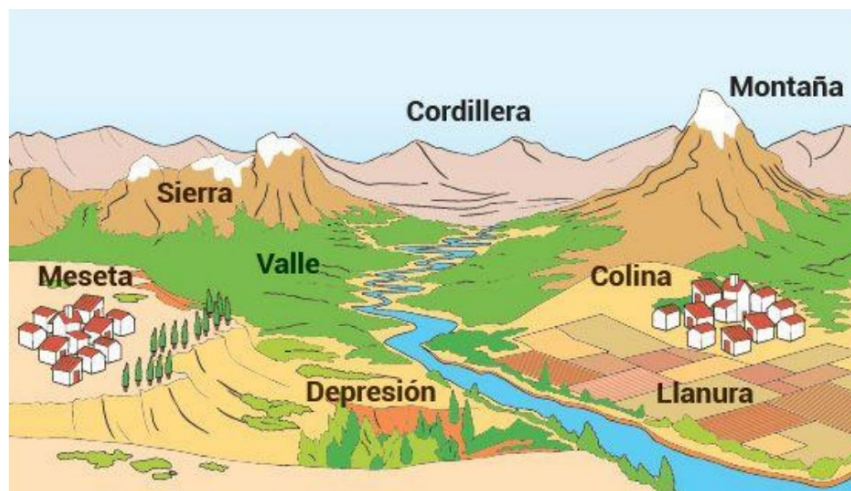
- Marca con un  aquellas afirmaciones correctas y con una  las afirmaciones incorrectas.



- a. La Cordillera de los Andes se encuentra al este de América del Norte.
- b. El Gran Cañón se ubica en la zona norte de América del Sur.
- c. América Central es una franja de tierra que une a las otras zonas de América.
- d. Los montes Apalaches se ubican en el oeste de América del Norte.
- e. La Patagonia se ubica en el extremo sur de América del Sur.
- f. Los Llanos del Orinoco se encuentran frente al mar Caribe.

2- Realiza un dibujo de un paisaje (en tu cuaderno de asignatura) donde se observen al menos cuatro de estas formas del relieve.

Ejemplo:



## REFLEXIÓN


1- ¿Qué elemento del paisaje representa la siguiente imagen?

- a) Cordillera.
- b) Llanura.
- c) Meseta.
- d) Montaña.



2- ¿Qué elemento del paisaje representa la siguiente imagen?

- a) Cordillera.
- b) Llanura.
- c) Península.
- d) Isla.



3- ¿Qué subcontinente de América se presenta en la imagen?

- a) América del Sur.
- b) América del Norte.
- c) América Central.
- d) Ninguna de las anteriores.



**(No olvides escribir fecha y objetivo de la clase en el cuaderno y enviar las fotos de las actividades realizadas a tu profesor (a))**

Enviar trabajo al correo de la profesora [jaqueline.madrid@colegio-manuelrodriguez.cl](mailto:jaqueline.madrid@colegio-manuelrodriguez.cl)

Comunicarse en caso de duda al celular +56935624619

### **Retroalimentación:**

- 1- ¿Qué has aprendido en la clase?**
- 2- ¿Cómo lo has hecho o aprendido?**
- 3- ¿Qué dificultades has tenido?**
- 4- ¿Para qué te ha servido?**
- 5- ¿En qué otras ocasiones podrías utilizar lo que has aprendido/ esta forma de aprender?**

