



NO IMPRIMIR

HISTORIA 5° AÑO BÁSICO

PROFESORA MILLARAY MENA SÁEZ

Lunes 6 al viernes 10 de julio

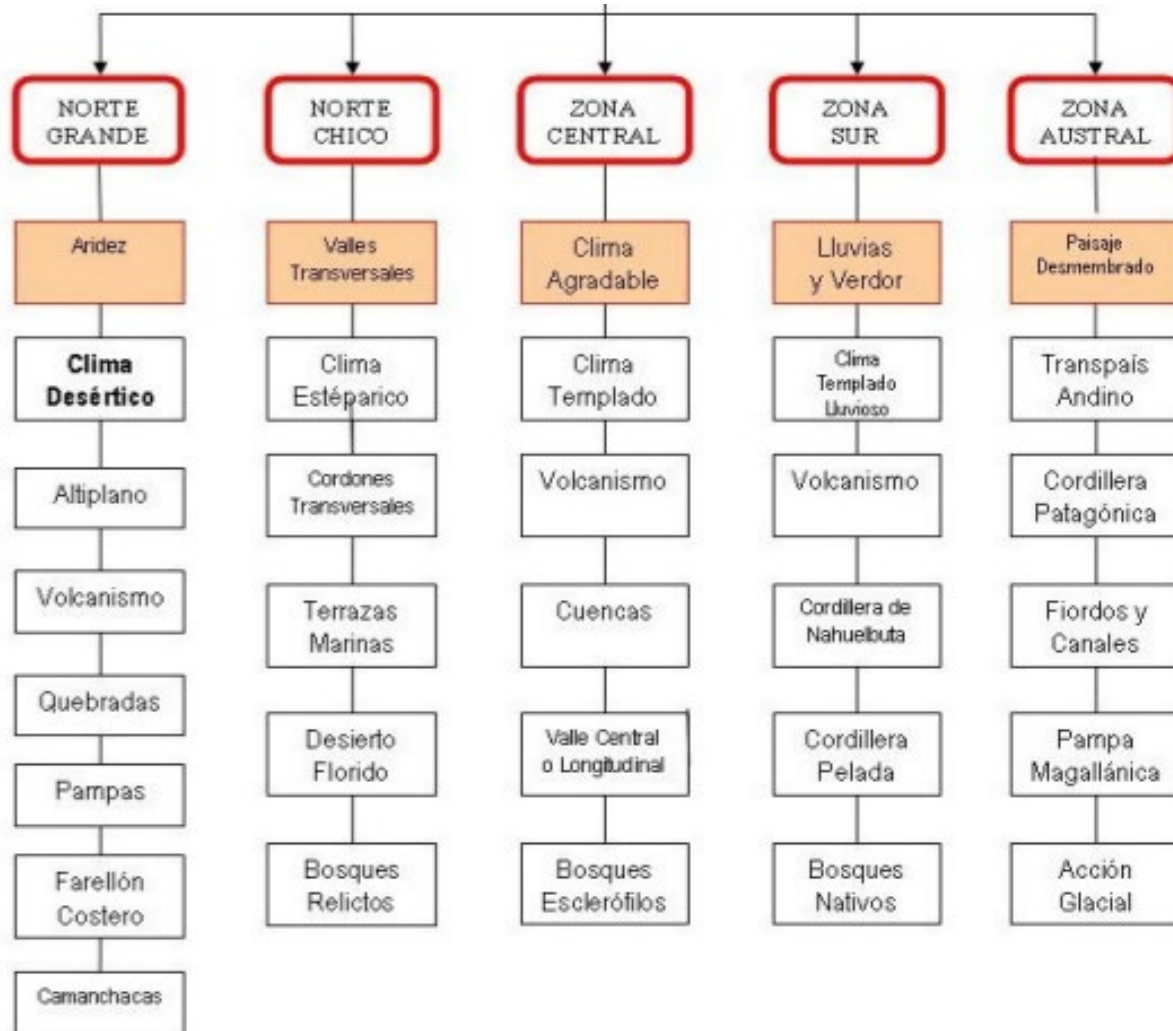
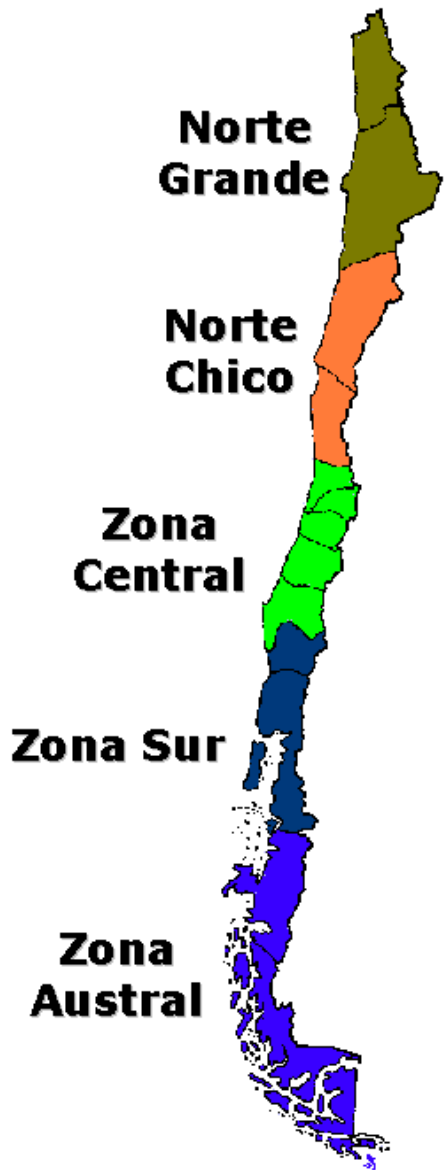
Unidad 1

OA 9 Caracterizar las grandes zonas de Chile y sus paisajes.



Activemos los conocimientos que ya sabes sobre las “Zonas Naturales de Chile”

En el desarrollo de la unidad 1 de la asignatura, nos centramos en caracterizar las zonas naturales de Chile, entendiendo que cada zona tiene elementos físicos comunes como: clima, vegetación, recursos naturales, macroformas del relieve y paisaje. Por medio de este mapa conceptual vamos a recordar los conceptos claves y responde las preguntas de forma reflexiva.

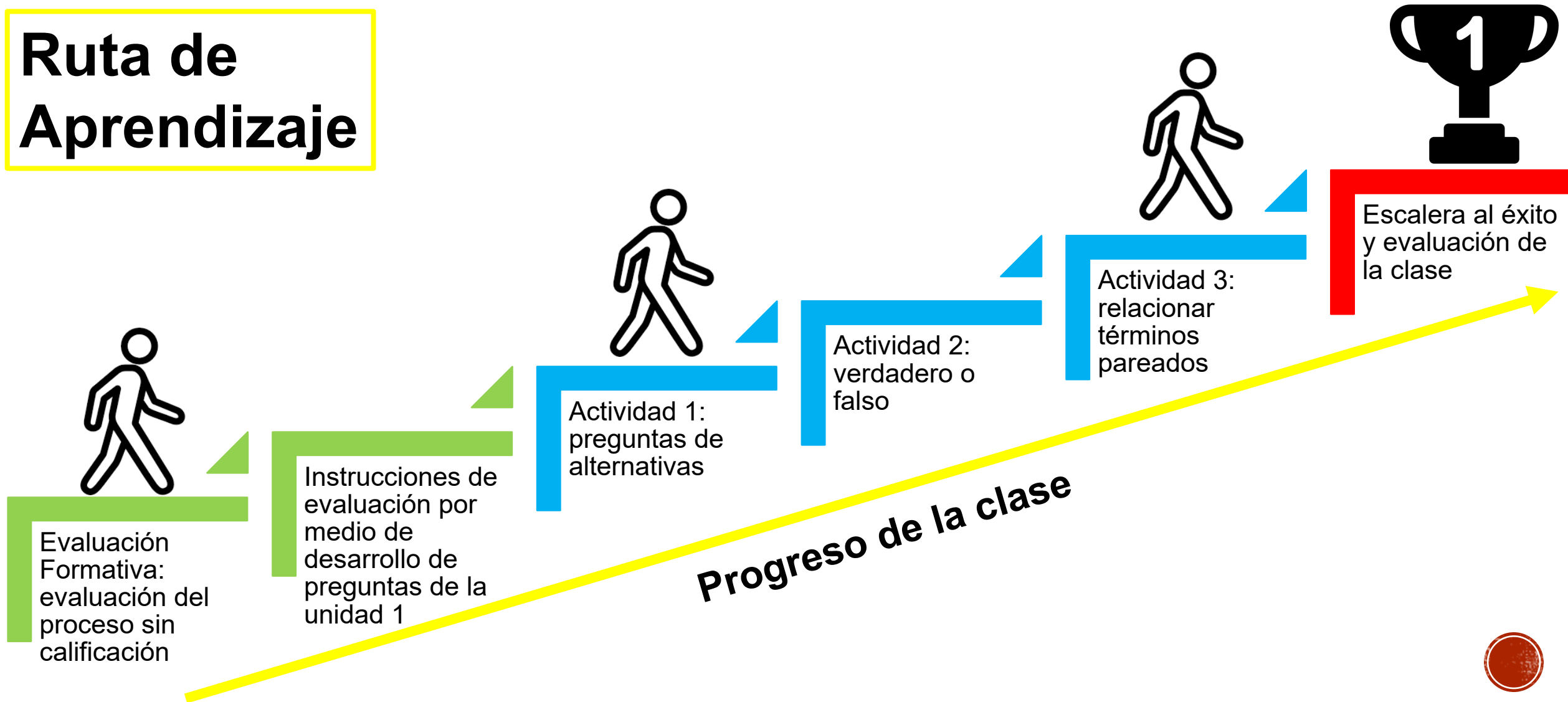


1. ¿Cuáles son las macroformas del relieve predominantes en el paisaje Chileno?
2. ¿Cuáles son las características principales del paisaje del altiplano en el norte grande?
3. ¿Cuáles son las características principales del paisaje en los valles transversales y planicie litoral de la zona del norte chico?
4. ¿Qué conceptos utilizarías para describir el clima de las siguientes zonas naturales?
5. ¿En qué zona natural vives tú?
6. ¿Qué diferencia existe en los paisajes de la zona del norte grande a la zona austral?



Objetivo de la Clase: Evaluar formativamente los contenidos, habilidades y conceptos de la unidad 1 “Zonas naturales de Chile”, por medio de guía de preguntas.

Ruta de Aprendizaje



Evaluación Formativa

La evaluación formativa sirve para medir nuestro avance en el desarrollo de conceptos, habilidades y contenidos de la unidad, sin tener una calificación numérica, lo que conocemos como nota. Es muy importante realizar este tipo de evaluaciones, ya que nos dirá cuánto hemos aprendido en el proceso y saber que debemos retomar y potenciar de la temática de la unidad.

Instrucciones de la Evaluación

Para la evaluación desarrollaremos tres actividades con preguntas relacionadas con la unidad 1 “Zonas Naturales”, debes responder en tu cuaderno según tus conocimientos y enviar este desarrollo por correo electrónico o WhatsApp (al final de la guía). Las actividades son las siguientes:

1. Preguntas de Alternativas: marca la alternativa correcta para responder la pregunta
2. Verdadero o falso: responde si las afirmaciones realizadas son verdaderas o falsas según lo aprendido
3. Términos Pareados: relaciona los conceptos de la columna A con los de la columna B según corresponda.

Recuerda que esta evaluación no es calificada con una nota



Actividad 1: Preguntas de Alternativas

Lee con mucha atención cada pregunta hasta lograr comprenderla, busca en las alternativas la respuesta correcta y escríbela en tu cuaderno. Relaciona lectura con imagen cuando corresponda.

Ejemplo (desarrollo en el cuaderno)

Pregunta 1: alternativa correcta letra A “El paisaje de la zona norte es seco”


1. Relacionando lo aprendido y la imagen ¿Qué zona natural se caracteriza por la presencia de glaciares y bosques?

- A. Austral
- B. Norte Grande
- C. Centro
- D. Norte Chico



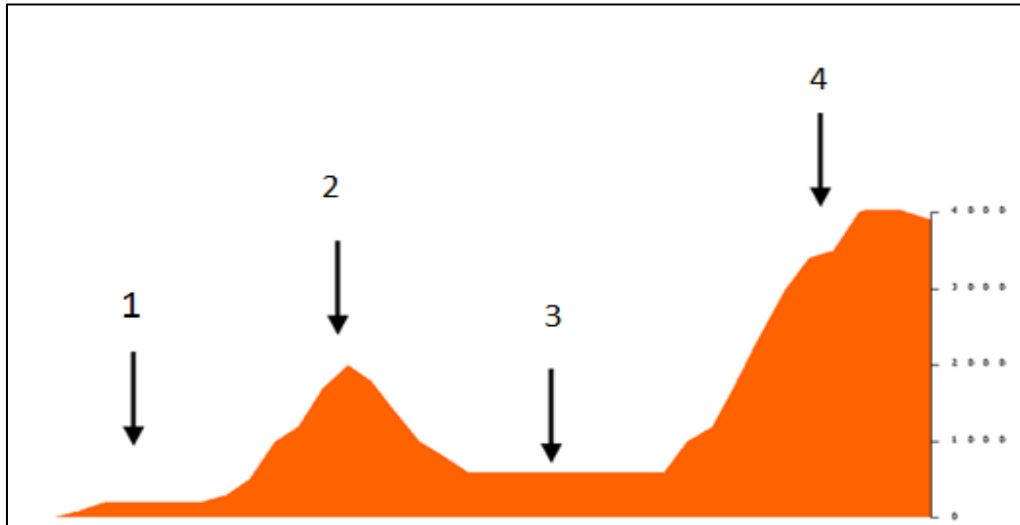
2. ¿Cuál de las siguientes relaciones describe correctamente el paisaje de la zona norte y sur?

- A. El norte es cálido y tropical. En cambio, el sur es seco y de escasa vegetación.
- B. La zona norte concentra gran parte de la minería y el sur el recurso forestal forestal.
- C. La ganadería de la zona norte destaca por su ganado vacuno, a diferencia del sur que es abundante en caprino y camélidos.
- D. El atractivo turístico del norte grande son sus lagos y ríos; por el contrario, para el sur son sus playas y desiertos.



3. Observa la imagen y responde ¿Cuáles son los nombres correspondientes para cada una de las macroformas que se observan, del 1 al 4?

- A. Planicies litorales, Depresión intermedia, Cordillera de la costa, Cordillera de los andes.
- B. Planicies litorales, Cordillera de la costa, Depresión intermedia, Cordillera de los andes.
- C. Planicies litorales, Cordillera de la costa, Cordillera de los andes, Depresión intermedia.
- D. Planicies litorales, Cordillera de los andes, Depresión intermedia, Cordillera de la costa.



4. ¿Cuáles son las principales características de los valles transversales del norte chico?

- A. Son áridos y con escasa vegetación.
- B. Tiene bajas temperaturas y presencia de glaciares.
- C. Se encuentran rodeados de cordones montañosos y su tierra es fértil.
- D. La actividad económica mas presente es la ganadería y la forestación.

5. ¿En qué zona del país se encuentran los principales recursos mineros?

- A. Zona centro y sur.
- B. Zona sur.
- C. Zona Norte.
- D. Zona centro.



Desafío Mental

¿PUEDES LEER ESTO?

L4 1N73L163NC14
35 L4 C4P4C1D4D
D3 AD4P74R53
4L C4M810

– 573PH3N H4WK1NG



Actividad 2: Verdadero o Falso

Lee con mucha atención cada pregunta hasta lograr comprenderla, define si la afirmación es verdadera o falsa según lo aprendido en la unidad. Escribe tu respuesta en el cuaderno.

Ejemplo (desarrollo en el cuaderno)

Pregunta 1: “Los recursos mineros de nuestro país se encuentran en la zona sur” FALSA

1. _____ Chile se divide en 5 zonas naturales, agrupando las regiones por sus similitudes en características físicas y geográficas.
2. _____ La Zona Centro es donde se presenta de forma más clara la depresión intermedia.
3. _____ El altiplano, presente en la Zona del norte grande, corresponde a una meseta o terreno plano en lo más alto de la cordillera de los andes.
4. _____ La cordillera de los andes presenta su mayor altura en la Zona Austral del país.
5. _____ Los valles transversales se presentan en la Zona Central.



Actividad 3: Términos Pareados

Une los conceptos de la columna A con los de la B según se relacionan. Transcribe a tu cuaderno y desarrolla la actividad.

A

Zona del Norte Grande

Zona del Norte Chico

Zona Central

Zona Sur

Zona Austral

B

1. Zona natural donde se encuentran las planicies patagónicas.
2. La planicie litoral se presenta como farellón costero.
3. El clima es mediterráneo en esta zona, lo que favorece a la agricultura
4. El clima de esta zona se caracteriza por tener abundantes precipitaciones durante el año.
5. Zona natural donde los cordones montañosos forman los valles transversales.
6. Zona en la se presente escasa vegetación por el clima desértico y bajas precipitaciones.
7. Zona donde se encuentra gran cantidad de ríos y lagos.
8. Zona en la que se concentra la mayor cantidad de la población chilena.

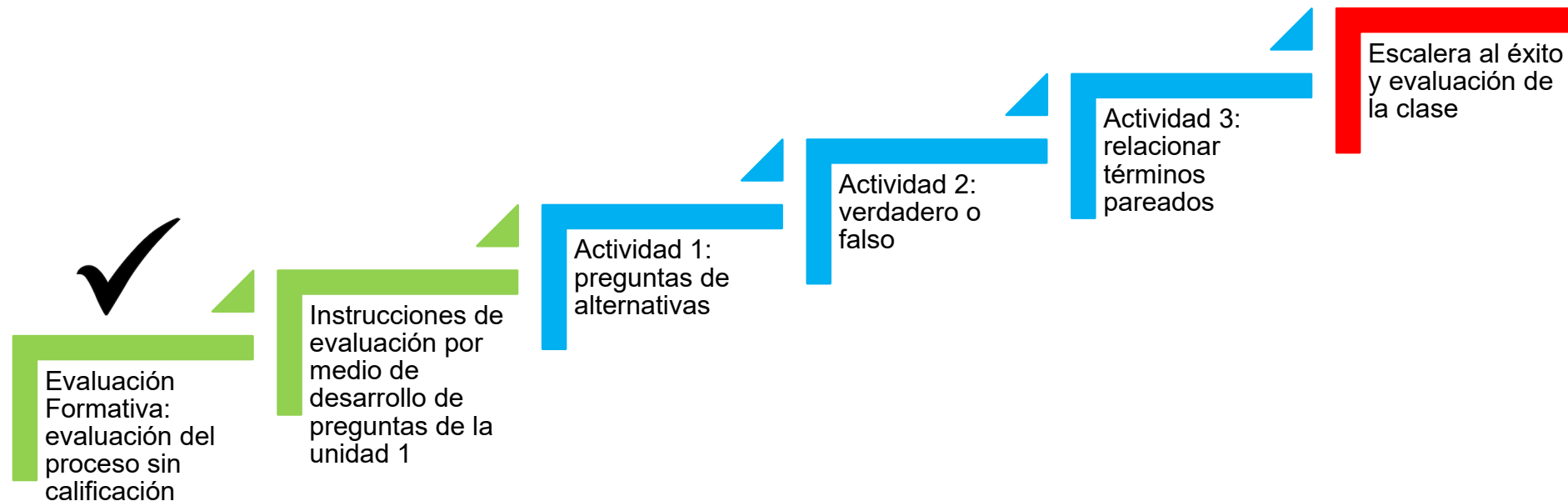


Cierre de la Clase

En el cierre de la clase revisaremos si logramos el objetivo de la clase y la ruta de aprendizaje. Posteriormente evaluaremos si la clase fue lograda, por medio de escalera al éxito.

¿Cumplimos el objetivo y ruta de aprendizaje?

Revisemos nuestro objetivo: ***Evaluar formativamente los contenidos, habilidades y conceptos de la unidad 1 “Zonas naturales de Chile”, por medio de guía de preguntas.*** Evaluamos formativamente por medio de guía de aprendizaje lo trabajado en la unidad 1, si completaste todas las actividades, quiere decir que hiciste un buen trabajo. Revisemos la ruta de aprendizaje, haz un ticket si completaste todos los pasos hasta llegar al éxito.



Escalera al éxito

Responde estas preguntas de forma reflexiva para saber cuanto aprendiste en esta clase.

1. ¿Qué he aprendido hoy?
2. ¿Cómo aprendimos en esta clase?
3. ¿Para qué me sirve lo aprendido?
4. ¿En que otra asignatura puedo aplicar lo aprendido?
5. ¿Cómo puedo aplicar esto en mi vida diaria?



Contacto

Correo electrónico: Millaray.mena@colegio-manuelrodriguez.cl

WhatsApp: 56 964194489





Excelencia Académica 2020-2021



SNED
2020 - 2021





Ministerio de Educación

Gobierno de Chile



SNED

Sistema Nacional de Evaluación de Desempeño

Excelencia Académica 2020-2021



COLEGIO MANUEL RODRÍGUEZ

Reconocimiento

Se confiere el presente reconocimiento

Carlos Monsalvo

por destacar el

*Por su destacada
quehacer*



DIRECTOR ESTABLECIMIENTO
David Allende Mirajanca



SNED
2020 - 2021

Historia, geografía y ciencias sociales



QUINTO BÁSICO

PROFESORA: MILLARAY MENA
SÁEZ

ASISTENTE: JAEL RAMOS
GONZÁLEZ

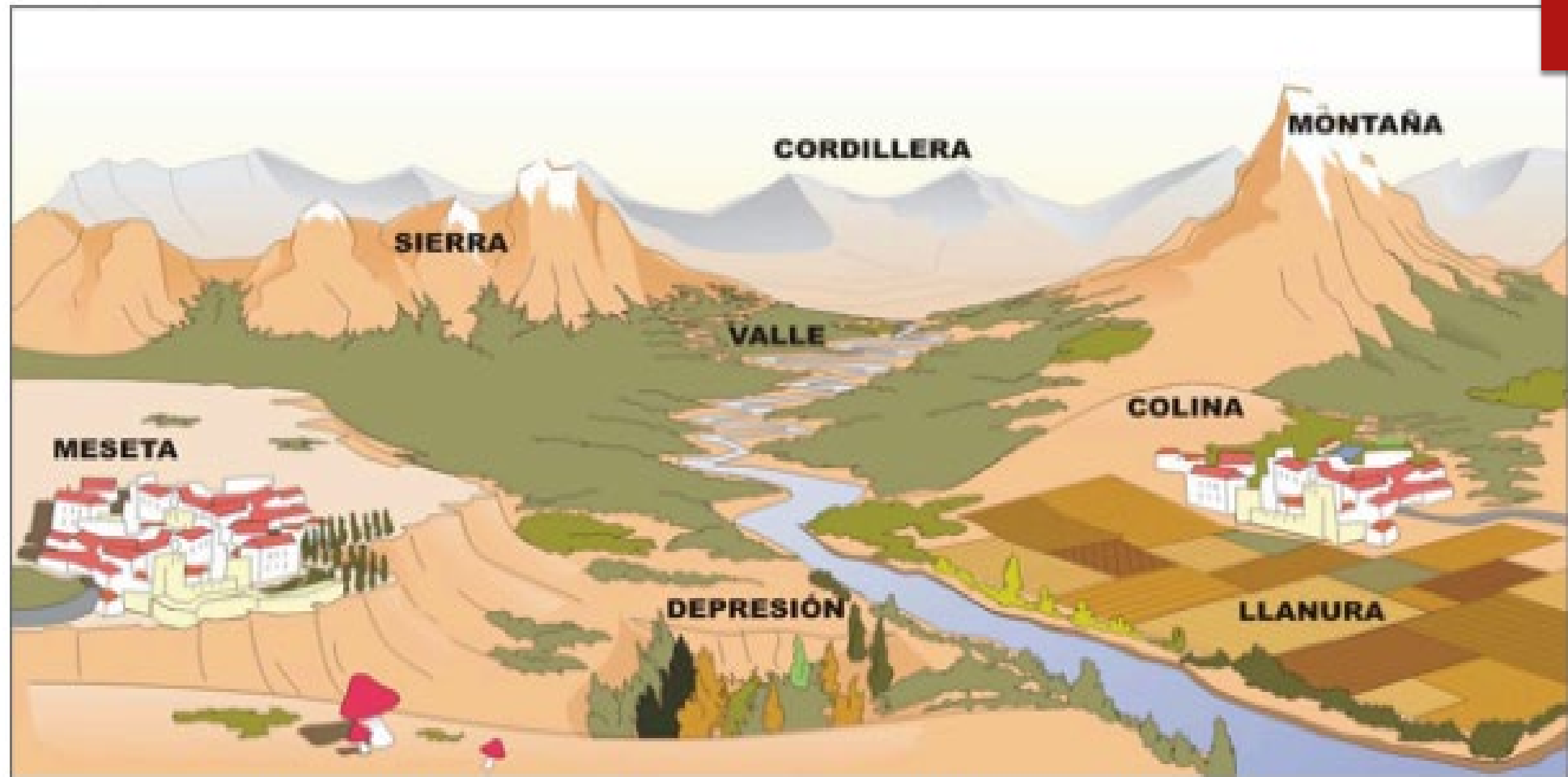
Objetivo: Evaluar formativamente los contenidos, habilidades y conceptos de la unidad 1 “Zonas naturales de Chile”, por medio de guía de preguntas
OA: Caracterizar las grandes zonas de Chile y sus paisajes.

ZONAS NATURALES DE CHILE

Los siguientes son límites de las zonas naturales:

- ✓ Río Copiapó (entre el Norte Grande y el Norte Chico).
- ✓ Río Aconcagua (entre el Norte Chico y la Zona Central).
- ✓ Río Biobío (entre la Zona Central y la Zona Sur).
- ✓ Golfo de Corcovado / Río Palena (entre la Zona Sur y la Zona Austral).
- ✓ Zonal Austral hasta el Polo Sur.





Fuente: https://www.google.cl/search?hl=es&site=img&tbm=isch&source=hp&biw=1366&bih=667&q=elementos+del+relieve&oq=elementos+del+relieve&gs_l=img.3.0l7j0i24l3.104

Norte grande



Norte chico



Zona central



Zona sur



Zona austral



Si lo puedes soñar,

lo puedes
lograr