



**NO IMPRIMIR**

# **HISTORIA 7° AÑO BÁSICO**

**PROFESORA MILLARAY MENA SÁEZ**

**Lunes 7 al viernes 11 de septiembre**

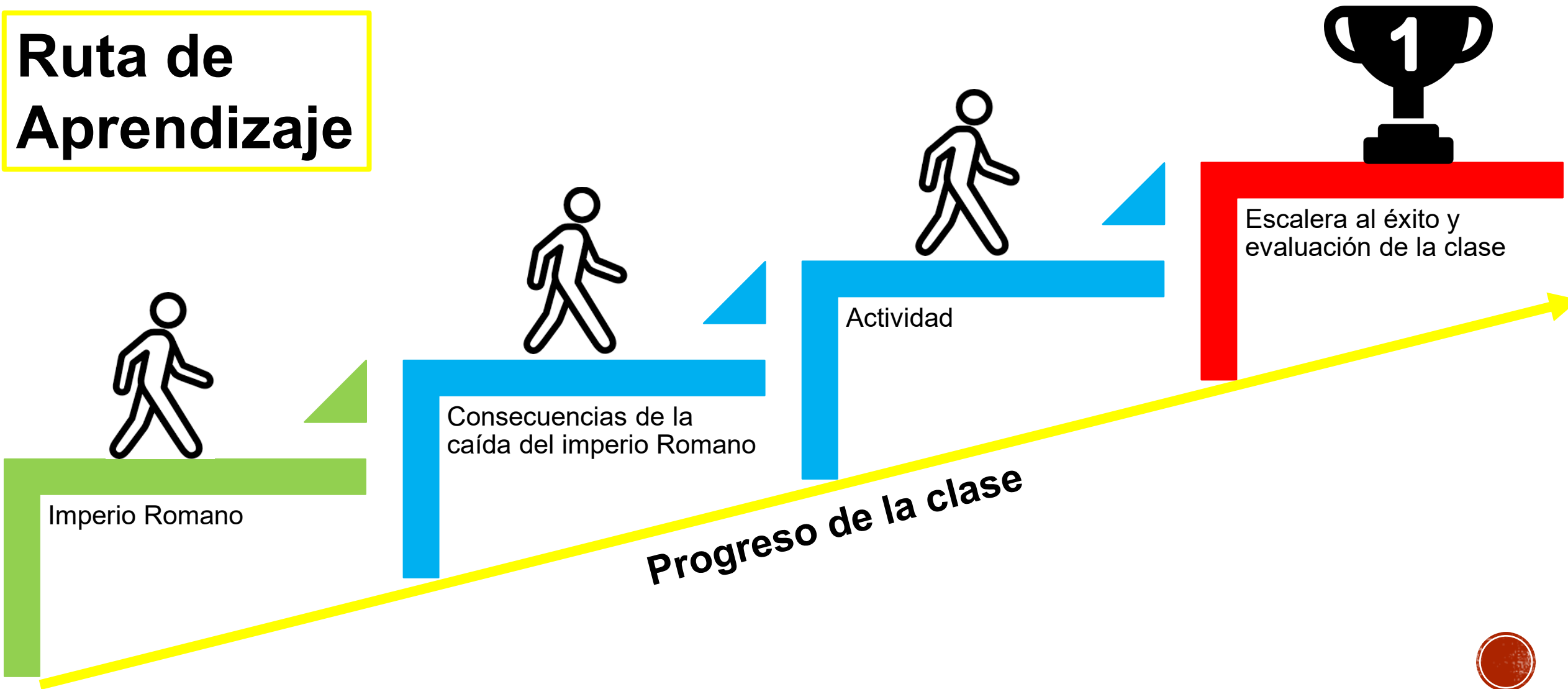
**Clase Online miércoles 9 de septiembre a las 16:00 horas**

**Unidad “Imperio Romano y Edad Media”**



**Objetivo de la Clase:** identificar las consecuencias geopolíticas de la caída del Imperio romano de Occidente, caracterizando el contexto histórico.

# Ruta de Aprendizaje



# El Imperio Romano

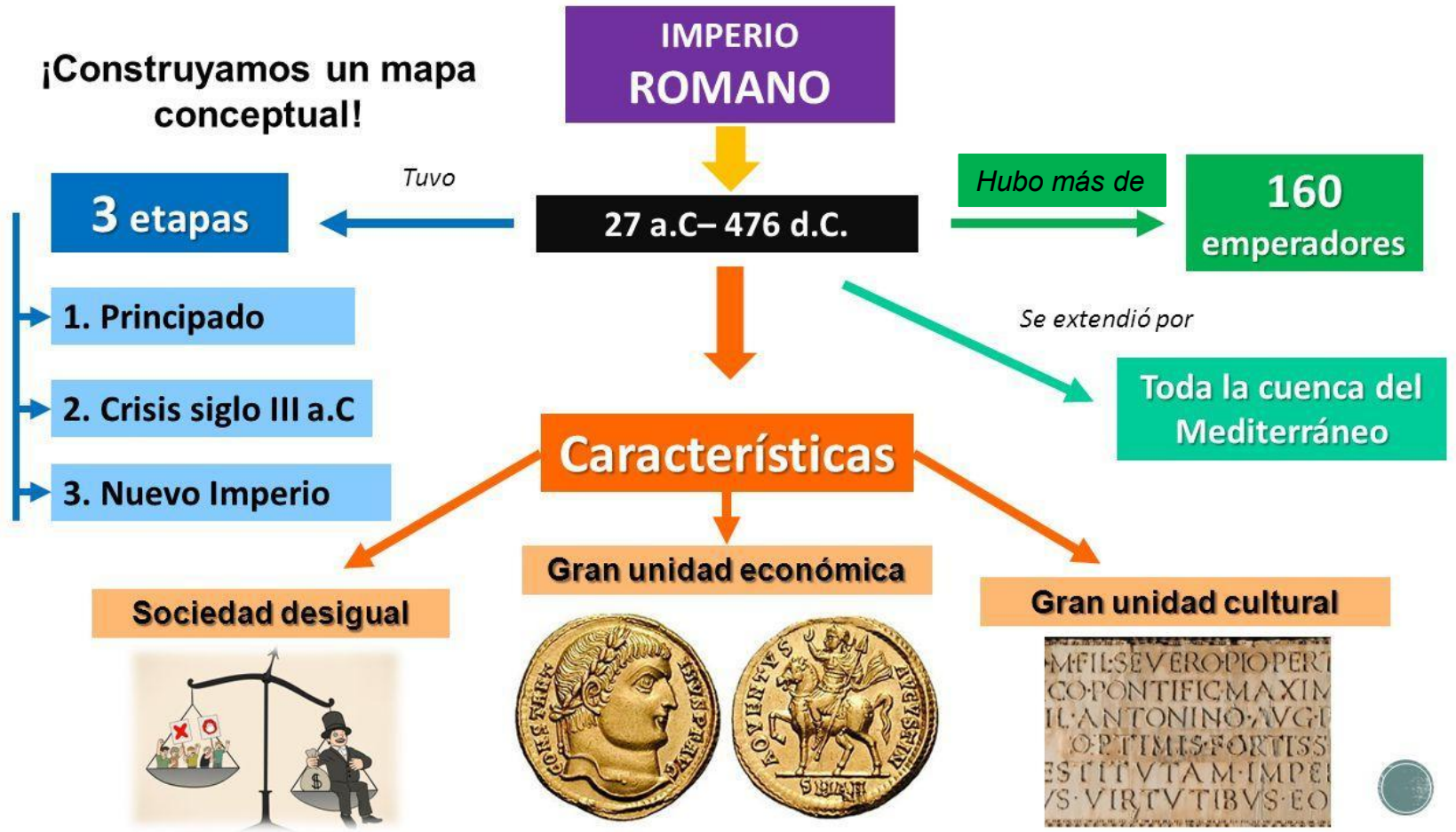
Lee atentamente el inicio de la clase

¿Qué significó para Roma la instauración del Imperio como nuevo tipo de gobierno?

El sistema republicano, debilitado y en crisis producto de las transformaciones derivadas del proceso de expansión, dio paso a un nuevo sistema de gobierno: el Imperio. Durante la época imperial se mantuvieron algunas características de la República, tales como la organización burocrática, la valoración y el respeto hacia las leyes y la permanente anexión de nuevos territorios.

Sin embargo, las decisiones políticas, religiosas y militares se concentraron en la figura del emperador, mientras que las magistraturas y el Senado fueron perdiendo relevancia.

Observa el siguiente mapa conceptual que nos muestra las características del Imperio Romano.



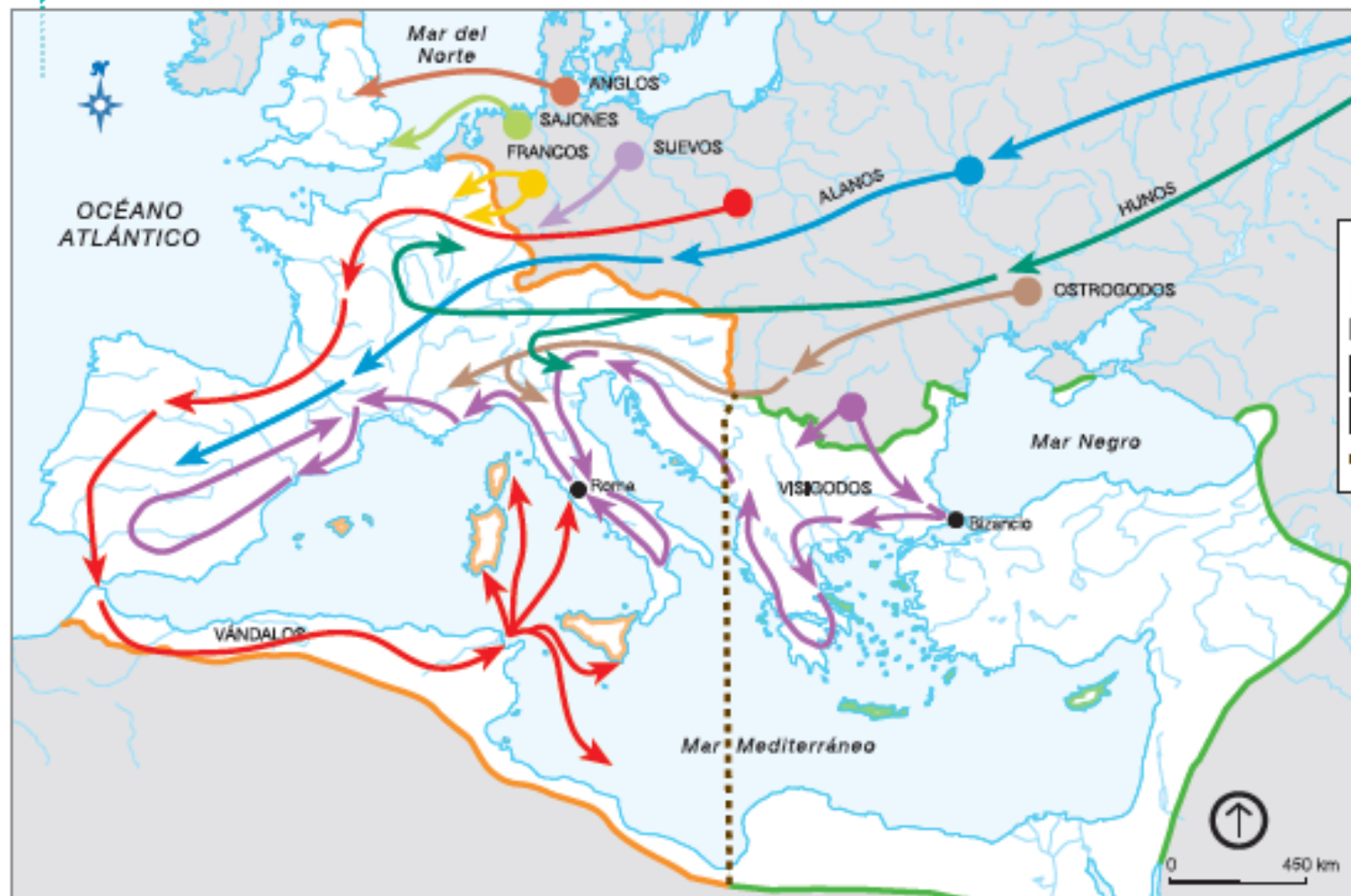
# Caída del Imperio de Occidente

## ¿Qué factores influyeron en la decadencia y caída del Imperio romano de Occidente?

Después de un largo periodo de gran esplendor el Imperio romano se sumió en una de profunda crisis durante el siglo III (235 y 284). En este proceso, la ciudad de Roma paulatinamente comienza a perder influencia al interior del Imperio, cuestión que es consolidada con el cambio de capital a Bizancio, ocurrida bajo el gobierno de Constantino, quien la bautiza como Constantinopla (actual Estambul). Hacia el siglo IV, las diferencias de los territorios occidentales y orientales se profundizan. Razón por la cual el emperador Teodosio dividió entre sus dos hijos el territorio, estableciendo con ello dos imperios romanos: uno occidental y otro oriental.

Desde ese momento, el destino de ambos transitó por caminos muy diferentes. Mientras el de Oriente perduró mil años más, el de Occidente sucumbió por un conjunto de causas. El fin de este Imperio es fechado en el año 476, momento en que es destituido su último emperador por un líder de los pueblos germanos. Muy importante es destacar que la caída del imperio dio paso al comienzo a la Edad Media.

Observa el siguiente mapa y con ayuda de la simbología interpreta la información sobre la división del imperio.



### SIMBOLOGÍA

#### División del Imperio romano e invaciones bárbaras

- Imperio de Occidente en el siglo IV
- Imperio de Oriente en el siglo IV
- División del Imperio (395 d.C.)



# Desafío Mental

Encuentra los tres "8"

&&&&&&&&&&&&&&&&&&  
&&&&&&&&&&&&&&&&&&  
&&&&&&&&&&&&&&&8&  
&&&&&&&&&&&&&&&&&&  
&&&&&&&&&&&&&&&&&&  
&&8&&&&&&&&&&&&&&&  
&&&&&&&&&&&&&&&8&



# Causas de la Caída del Imperio Romano

Con la caída del Imperio romano de Occidente se inicia una nueva etapa en la historia de Europa y de las regiones cercanas. Esta etapa se caracterizó por la fragmentación territorial y política de la antigua unidad en torno al mar Mediterráneo, por el protagonismo de los pueblos germanos y por el enorme poder e influencia que adquirió la Iglesia católica. Con

Una de las principales consecuencias de la caída del Imperio, fue la fragmentación de territorios en el continente Europa.

**A continuación lee las causas Internas, propias del Imperio y las causas Externas, que afectaron desde fuera a Roma.**

## Causas Internas:

- ✓ División del imperio entre Occidente y Oriente
- ✓ Debilidad del Gobierno
- ✓ Crisis económica por problemas en la agricultura y el comercio
- ✓ Alza en los precios de alimentos básicos
- ✓ Altos impuestos
- ✓ Ejército Romano disperso y débil

## Causas Externas:

- ✓ Invasiones de pueblos Barbaros o Germanos
- ✓ Acceso de ladrones por los caminos del Imperio



# Actividad

Lee atentamente las preguntas de alternativas y responde en el cuaderno de historia, escribiendo la respuesta correcta.

1. Con respecto al rol del mar Mediterráneo en la Antigüedad, se puede afirmar que:
  - A. fue un lugar exclusivamente utilizado para enfrentamientos militares.
  - B. sobre él se creó una red comercial sin importancia para los pueblos antiguos.
  - C. en sus costas se asentaron pueblos con características culturales idénticas entre sí.
  - D. se consolidó como un espacio de comunicación e intercambio cultural.
2. ¿Cuál de los siguientes pueblos invadió Roma, agudizando la crisis interna, siendo por ello uno de los antecedentes de la caída del Imperio Romano de Occidente?
  - A. Los griegos.
  - B. Los egipcios.
  - C. Los germanos.
  - D. Los bizantinos.
3. ¿Qué transformación vivió el Imperio Romano de Occidente después del derrocamiento del último emperador en el año 476?
  - A. Se fragmentó en varias provincias romanas.
  - B. Se fragmentó en varios reinos gobernados por militares romanos.
  - C. Se fragmentó en varios reinos gobernados por líderes germanos.
  - D. Se convirtió en un imperio germano.



# Actividad

Lee atentamente las preguntas de alternativas y responde en el cuaderno de historia, escribiendo la respuesta correcta.

4. Se extendió desde el fin del Imperio Romano de Occidente hasta el fin del Imperio Romano de Oriente, el periodo se llama:
- A. Edad Media
  - B. Alta Edad Media
  - C. Baja Edad Media
  - D. Edad Moderna
5. Según lo aprendido en la clase ¿Cuál es el hecho histórico que da comienzo a la Edad Media?
- A. Caída de Grecia
  - B. Caída del Imperio Romano de Oriente
  - C. Caída de la República de Roma
  - D. Caída del Imperio Romano de Occidente
6. Las causas de la caída del Imperio Romano de Occidente son múltiples. ¿Cuál de las siguientes **no es una causa** de la caída del imperio?
- A. Crisis de salud en toda la población romana
  - B. Alza de los impuestos que debían pagar los ciudadanos
  - C. Amenaza de pueblos barbaros en los limites del Imperio
  - D. Debilitamiento del ejercito Romano dispersión y falta de esclavos.





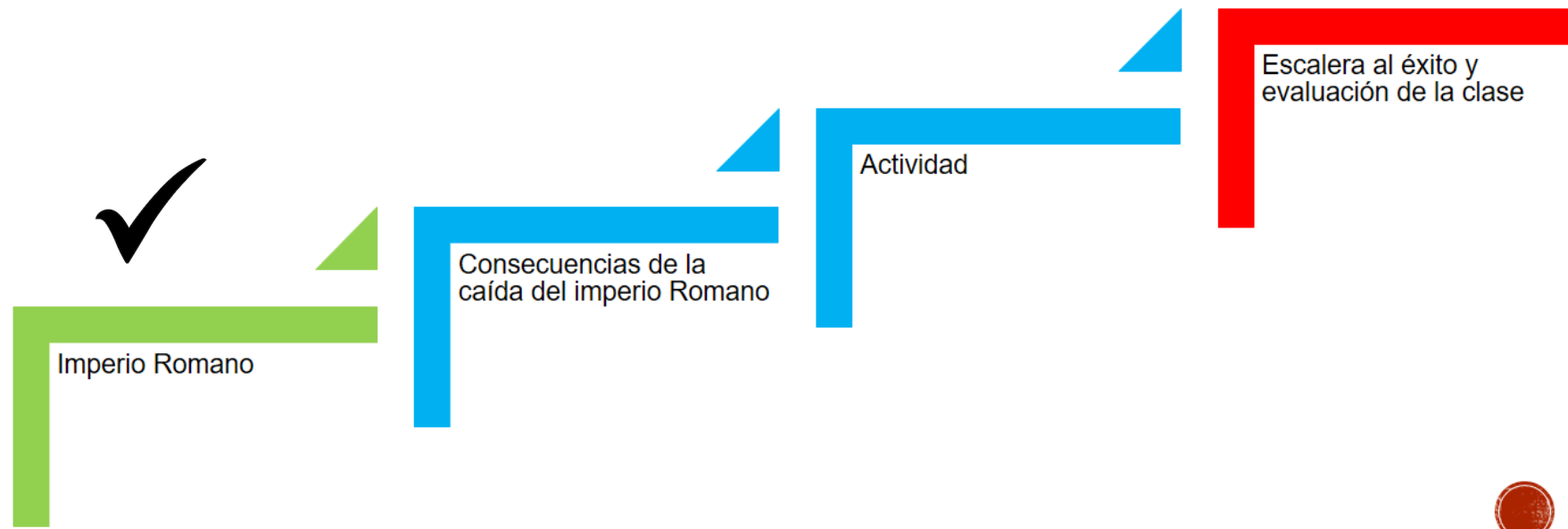
# Cierre de la Clase

En el cierre de la clase revisaremos si logramos el objetivo de la clase y la ruta de aprendizaje. Posteriormente evaluaremos si la clase fue lograda, por medio de escalera al éxito.

## ¿Cumplimos el objetivo y ruta de aprendizaje?

Revisemos nuestro objetivo: **identificar las consecuencias geopolíticas de la caída del Imperio romano de Occidente, caracterizando el contexto histórico.**

Si completaste todas las actividades, quiere decir que hiciste un buen trabajo. Revisemos la ruta de aprendizaje, haz un ticket si completaste todos los pasos hasta llegar al éxito.



# Escalera al éxito

Responde estas preguntas de forma reflexiva para saber cuanto aprendiste en esta clase.

1. ¿Qué he aprendido hoy?
2. ¿Cómo aprendimos en esta clase?
3. ¿Para qué me sirve lo aprendido?
4. ¿En que otra asignatura puedo aplicar lo aprendido?
5. ¿Cómo puedo aplicar esto en mi vida diaria?



## Contacto

Correo electrónico: [Millaray.mena@colegio-manuelrodriguez.cl](mailto:Millaray.mena@colegio-manuelrodriguez.cl)

WhatsApp: 56 964194489





# Excelencia Académica 2020-2021



SNED  
2020 - 2021





Ministerio de Educación

Gobierno de Chile



SNED

Sistema Nacional de Evaluación de Desempeño

# Excelencia Académica 2020-2021



COLEGIO MANUEL RODRÍGUEZ

*Reconocimiento*

Se confiere el presente reconocimiento

Carlos Monsalvo

por destacar en

*Por su destacada  
quehacer*



DIRECTOR ESTABLECIMIENTO  
David Allende Mirajanca



SNED  
2020 - 2021



# HISTORIA, GEOGRAFÍA Y CIENCIAS SOCIALES

SEPTIMO BÁSICO

PROFESORA: MILLARAY MENA SÁEZ

ASISTENTE: Jael RAMOS GONZÁLEZ

**Objetivo:** identificar las consecuencias geopolíticas de la caída del Imperio romano de Occidente, caracterizando el contexto histórico.



# LA CAÍDA DEL IMPERIO ROMANO DEL OCCIDENTE:

- La caída del Imperio romano de Occidente (también conocida como la caída del Imperio romano o la caída de Roma) fue el período de declive del Imperio romano de Occidente en que perdió la autoridad de ejercer su dominio y su vasto territorio fue dividido en numerosas entidades políticas sucesoras.
- La gloriosa historia del Imperio romano de Occidente llegó a su fin en el año 476, cuando Odoacro, un caudillo bárbaro, destituyó al joven emperador Rómulo Augusto y asumió el gobierno de Italia.

- En el año 410 las tropas del visigodo Alarico saquearon Roma, causando una conmoción general en todo el Imperio. Pero la ilustre historia del Imperio romano de Occidente **vivió su último capítulo en el año 476 en Ravena**, ciudad que desde hacía unas décadas era la capital del mismo Imperio. El general bárbaro Odoacro se hizo con el gobierno de Italia, tras destituir y desterrar a Rómulo Augusto, el último emperador, un joven que por su debilidad **se ganó enseguida el apodo de "Augústulo"**, el pequeño Augusto.
- Tradicionalmente, estos sucesos han sido descritos como **los que marcaron el tránsito de la Antigüedad a la Edad Media**. Sin embargo, Augusto no fue el personaje principal de esta debacle, sino tan sólo una víctima involuntaria de las decisiones de otros: en primer lugar, Orestes y Odoacro; algo más lejos, en Constantinopla, Zenón, el emperador de Oriente; en la sombra, condenado a la inacción, el depuesto emperador de Occidente, Julio Nepote. Orestes, padre de Rómulo Augusto que estuvo afincado en Panonia (Hungría), llegó a unirse al séquito del huno **Atila**.




- A la muerte de este, en el año 453, Orestes buscó fortuna en el Imperio romano de Occidente, donde desarrolló una exitosa carrera. Se rebeló y marchó contra el emperador Julio Nepote, que huyó de Ravena en agosto de 475. Dos meses más tarde, el 31 de octubre, su hijo, Rómulo Augusto, era proclamado en Ravena emperador de la parte occidental del Imperio romano. Orestes ejerció el poder en nombre de su hijo durante los escasos diez meses que duró su mandato: hubo de hacer frente a una rebelión de su ejército, y las tropas amotinadas escogieron como líder a Odoacro. Comprimida entre Orestes y Odoacro, **la figura de Rómulo Augusto quedó empequeñecida, difuminada**; fue una marioneta en manos de uno y otro, un instrumento más de sus juegos de poder.




- Mapa animado de la República e Imperio romano entre 510 a. C. y 530 d. C.,

 República

 Imperio


 Imperio Oriental/Bizantino

 Imperio de Occidente

## Contacto

Correo electrónico: [Millaray.mena@colegio-manuelrodriguez.cl](mailto:Millaray.mena@colegio-manuelrodriguez.cl)

WhatsApp: 56 964194489



**Estás más que  
capacitado. Eres  
increíble. Solo  
tienes que confiar  
en ti mismo.**

“[Frases20.com](http://Frases20.com)”